

対称な形


年 組 名前

対称な形って何だろう？

ある直線で折ったとき、ぴったり重なる図形が です。アルファベットや地図記号、マークなど、身の回りにある線対称など、身の回りの線対称のものを探してみましょう。

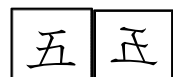
「五」の字と線対称の図形をかこう！

五の字の脇に直線を引いて、この直線を中心とした線対称な図形をかいてみよう。



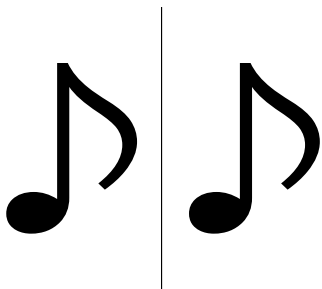
線に鏡を立てて、うつった図形とかいた図形が同じになれば正しいよ。さあ、どうかな？

〈答え〉




次の6つの図形の中で、線対称になっているのはどれ？

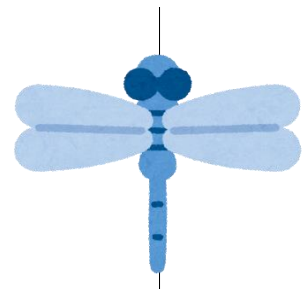
①



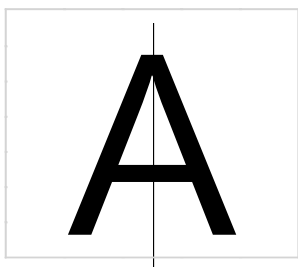
②



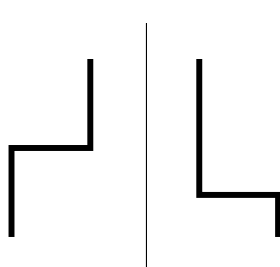
③




④



⑤



⑥



〈答え〉②③④⑥