

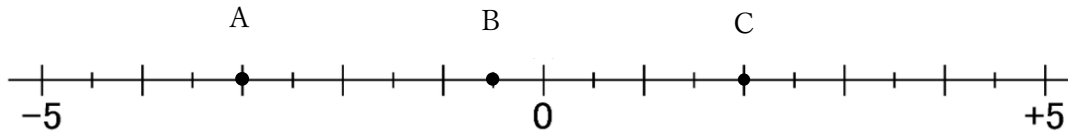
第1章 正の数・負の数 補習問題

学習日 **5月 8日 (金)**

第2回 数直線 教P16 ワークp2 4~5

1 次の数直線で、A, B, Cにあたる数を答えなさい。

⑨ 1メモリの大きさは0.5です。



A . . .

B . . .

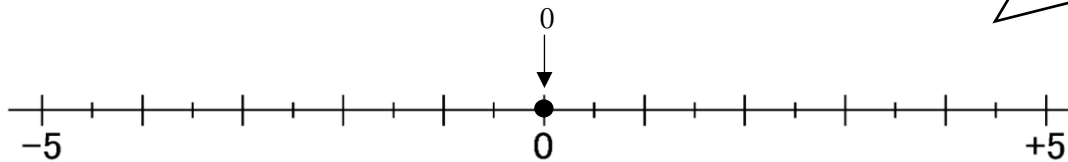
C . . .

2 次の数を、以下の数直線上に表しなさい。(例の表し方にしたがって表すこと)

(例) 0

-4, +3, -1.5

⑨ 1メモリの大きさは0.5です。



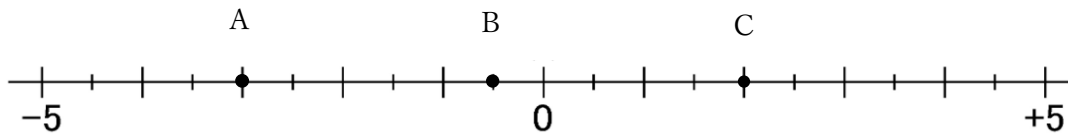
第1章 正の数・負の数 補習問題

学習日 **5月 8日 (金)**

第2回 数直線 教P16 ワークp2 4~5

1 次の数直線で、A, B, Cにあたる数を答えなさい。

④ 1メモリの大きさは0.5です。



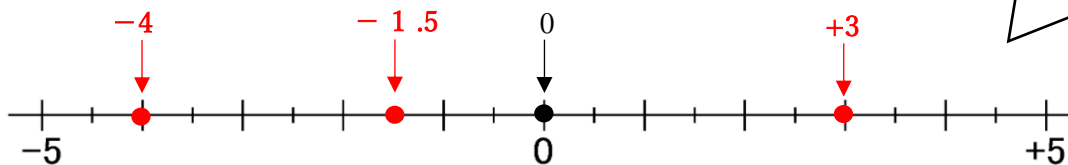
A・・・ **-3** B・・・ **-0.5** C・・・ **+2**

2 次の数を、以下の数直線上に表しなさい。(例の表し方にしたがって表すこと)

(例) 0

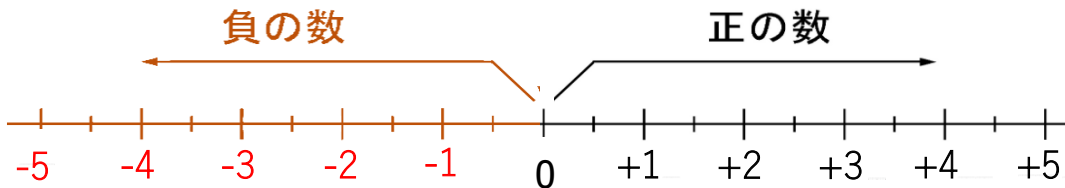
-4, +3, -1.5

④ 1メモリの大きさは0.5です。



<問題のポイント>

1 数直線では、**負の数は0より左側**であらわす。



2 **小数は間違えやすいポイントなので、前と後ろの整数を書いて確かめると安心!**

