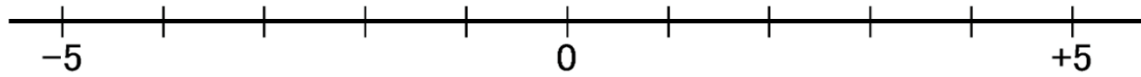


第1章 正の数・負の数 補習問題

学習日 **5月 14日 (木)**

第6回 数直線を使って数の大きさを求める 教P 21~22 ワークP4~5

1 数直線を使って、次の数を求めなさい。



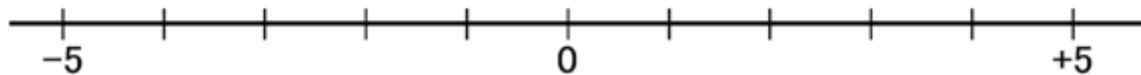
- ① -2 より 3 大きい数
- ② 2 より 5 小さい数
- ③ 0 より -3 小さい数
- ④ -4 より -8 小さい数

第1章 正の数・負の数 補習問題

学習日 **5月 14日 (木)**

第6回 数直線を使って数の大きさを求める 教P 21~22 ワーク P4~5

1 数直線を使って、次の数を求めなさい。



① -2 より 3 大きい数 $+1$ (または 1)

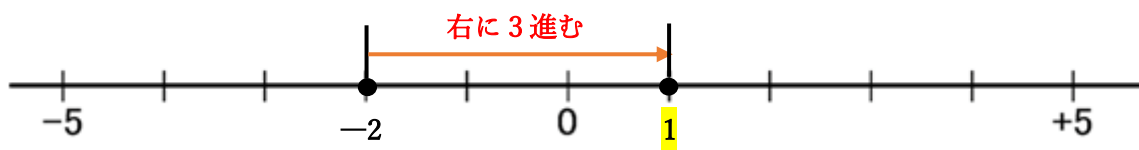
② 2 より 5 小さい数 -3

③ 0 より -3 小さい数 $+3$ (または 3)

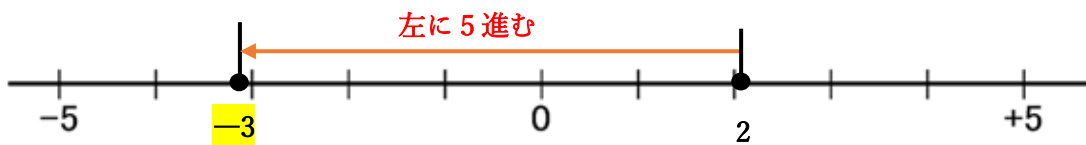
④ -4 より -8 小さい数 $+4$ (または 4)

<問題のポイント>

①数直線を使うと、 -2 より 3 大きい数は
 -2 より右に 3 進んだ点として表すことができる。



②同じように 2 より 5 小さい数は
 2 より左に 5 進んだ点として表す。



③ -3 小さい数は 3 大きい数と同じ意味なので、

0 より -3 小さい数は
 0 より 3 大きい数と表すことができる。

